

الأخبار



الدراسات الاجتماعية

نماذج امتحانات

الصف الثالث الإعدادي



الفصل الدراسي الثاني

2021

أولاً: الجغرافيا:

السؤال الأول:



(أ) أمامك خريطة صماء لدولة البرازيل . اكتب ما تدل عليه الأرقام :

- ١ دائرة عرض رئيسية
- ٢ هضبة
- ٣ العاصمة القديمة للبرازيل
- ٤ المحيط

(ب) صوب ما تحته خط :

- ١ الولايات المتحدة أولى دول العالم إنتاجًا للصوف .
- ٢ تعد مصر أكبر دول العالم إنتاجًا للألبان .
- ٣ أهم الصناعات الحديثة في دول الخليج العربي الصناعات اليدوية .
- ٤ أعلى القمم الجبلية في دولة ألمانيا جبال البرانس .

(ج) بم تفسر...؟

- ١ تحتل الصين المركز الأول في إنتاج الأسماك .
- ٢ تركب صناعة الألومنيوم في الدول المتقدمة .
- ٣ انكماش مساحة الحشائش بالسهول الساحلية في ألمانيا .
- ٤ صعوبة استخدام الآلات والميكنة الزراعية في الزراعة الكثيفة .

السؤال الثاني :

(أ) اختر الإجابة الصحيحة مما بين القوسين :

- ١ يُعد الموطن الأصلي للشاي (شرق الهند - غرب البرازيل - شرق آسيا - جنوب ألمانيا)
- ٢ أكبر الأقاليم الصناعية في العالم الجديد إقليم (غرب ووسط آسيا - شرق إفريقيا - شمال شرق الولايات المتحدة - روسيا)
- ٣ أهم دول إفريقيا في إنتاج القطن (المغرب - ليبيا - تونس - مصر)

(ب) أجب عما يأتي :

- ١ ما المقصود بالمصطلحين الجغرافيين الآتيين...؟ (أ) مصادر الطاقة . (ب) الرعى التجاري .
- ٢ أيد بالأدلة الجغرافية: ترتبط مصر وألمانيا بعلاقات ثقافية وعلمية .
- ٣ حدد نتيجة واحدة ترتبت على : (أ) الوحدة الاقتصادية الأوروبية . (ب) استخدام الآلات الزراعية والطرق العلمية الحديثة في الزراعة التجارية والعلمية .
- ٤ من وجهة نظرك ، ما المقومات الطبيعية والبشرية التي يمكن أن تساهم في قيام التنمية الصناعية في مصر؟

ثانياً: التاريخ:

السؤال الثالث:

(١) اختر الإجابة الصحيحة مما بين الأقواس:

- ١ ترتب على فشل العدوان الثلاثي ١٩٥٦م انسحاب القوات الإنجليزية والفرنسية من مدينة
(السويس - الإسمايلية - الإسكندرية - بورسعيد)
- ٢ يعتبر مبدأ الأرض مقابل السلام من قرارات مؤتمر..... (كامب ديفيد - مدريد - سان ريمو - باندونج)
- ٣ تضمن دستور ١٩٢٣م إنشاء برلمان يمثل السلطة..... (القضائية - التنفيذية - التشريعية - المدنية)
- ٤ تم إنشاء أول مدرسة لتعليم البنات بدعوة من.....
(رفاعة الطهطاوى - سعد زغلول - محمد فريد - جمال الدين الأفغانى)

(ب) بم تفسر...؟

- ١ تقديم الولايات المتحدة مبادرة روجرز.
- ٢ تعد ثورة ٢٥ يناير من الثورات الفريدة فى تاريخ مصر.
- ٣ أهمية منظمات المجتمع المدنى .
- (ج) ما المقصود بالمفاهيم التاريخية الآتية...؟
 - ١ عدم الانحياز.
 - ٢ مرحلة الصمود والتصدى.
 - ٣ الحياة النيابية.

السؤال الرابع:

(١) لمن تنسب الأعمال التاريخية الآتية...؟

- ١ عين أول رئيس لجمهورية مصر العربية فى يونيو ١٩٥٣م بعد إلغاء الملكية.
- ٢ قاد خطة الخداع لصرف أنظار إسرائيل عن التجهيزات الهجومية لحرب ١٩٧٣م.
- ٣ بادر بزيارة إسرائيل من أجل السلام عام ١٩٧٧م.
- ٤ شاركت فى الحياة النيابية وشغلت منصب رئيس اللجنة التشريعية بمجلس الشعب.

(ب) صوب ما تحته خط:

- ١ أذيع البيان الأول لثورة ٢٣ يوليو ١٩٥٢م باسم اللواء جمال عبدالناصر.
- ٢ وقعت مصرا اتفاقية الجلاء فى أكتوبر ١٩٥٤م مع فرنسا.
- ٣ تم إغلاق خليج السويس فى وجه الملاحاة الإسرائيلية فى مايو ١٩٦٧م.
- ٤ تسلم السلطة فى يوليو ٢٠١٣م المستشار عدلى منصور رئيس المحكمة الجنائية.

(ج) ماذا كان يحدث إذا...؟

- ١ لم تقدم الولايات المتحدة معلومات عسكرية لإسرائيل فى حرب ١٩٧٣م.
- ٢ لم ترسخ الفترة من (١٩٥٢:١٩٧١) مشاركة المرأة المصرية فى جميع المجالات.

أولاً: الجغرافيا:

السؤال الأول:



(أ) أمامك خريطة صماء لدولة ألمانيا. وضع مدلول الأرقام الآتية:

- ١ جبال
- ٢ دولة
- ٣ بحر
- ٤ العاصمة

(ب) اكتب كلمة (صواب) أمام العبارة الصحيحة، وكلمة (خطأ) أمام العبارة غير الصحيحة:

- ١ يزرع قصب السكر في المناطق المعتدلة الباردة. ()
- ٢ يعد الغاز الطبيعي مصدراً للطاقة الأقل تلويثاً والأرخص عالمياً. ()
- ٣ يعتبر النشاط الصناعي هو قمة الأنشطة الاقتصادية المتطورة في العالم. ()
- ٤ يسود المناخ المداري الحار في أقصى جنوب شرق البرازيل. ()

(ج) ما النتائج المترتبة على...؟

- ١ صغر مساحة الحقول الزراعية في الزراعة الكثيفة.
- ٢ الوحدة الاقتصادية الأوروبية.

السؤال الثاني:

(أ) اكتب المصطلح الجغرافي الذي تشير إليه العبارات الآتية:

- ١ يستخرج من عصارة أشجار استوائية وتصنع منه إطارات السيارات.
- ٢ نشاط يمارسه سكان المناطق الصحراوية في مساحات واسعة في العالم.
- ٣ استخراج المعادن ومصادر الطاقة من باطن الأرض أو بالقرب من سطح الأرض.
- ٤ زراعة تسود على هوامش الغابات الاستوائية وفي بعض مناطق السافانا.

(ب) دلل جغرافياً على صحة العبارات الآتية:

- ١ تنتشر مصايد الأسماك على سواحل القارات.
- ٢ يعد البترول أهم مصادر الطاقة.
- ٣ سكان البرازيل خليط من معظم الأجناس.

ثانياً: التاريخ:

السؤال الثالث:

(أ) لمن تنسب الأعمال التاريخية الآتية...؟

- ١ تولى رئاسة مصر بعد الانتخابات سنة ٢٠١٤م.
- ٢ انتُخبت رئيساً للجنة الوفد المركزية للسيدات عام ١٩٢٠م.
- ٣ أشار على الخديو إسماعيل بإنشاء أول مدرسة لتعليم الفتيات.
- ٤ رئيس أركان حرب القوات المسلحة في حرب الاستنزاف.

(ب) ما النتائج المترتبة على...؟

- ١ وضع فلسطين تحت الانتداب البريطاني ١٩٢٠م.
- ٢ فشل العدوان الثلاثي على مصر ١٩٥٦م.
- ٣ إنشاء السد العالي.

السؤال الرابع:

(أ) ماذا كان يحدث إذا...؟

- ١ انتصرت مصر على إسرائيل في حرب يونيو سنة ١٩٦٧م.
- ٢ لم تشكل اللجان الشعبية أثناء ثورة ٢٥ يناير سنة ٢٠١١م.
- ٣ لم يقم الرئيس الراحل محمد أنور السادات بزيارة القدس ١٩٧٧م.
- ٤ لم تصدر ثورة ٢٣ يوليو قوانين الإصلاح الزراعي.

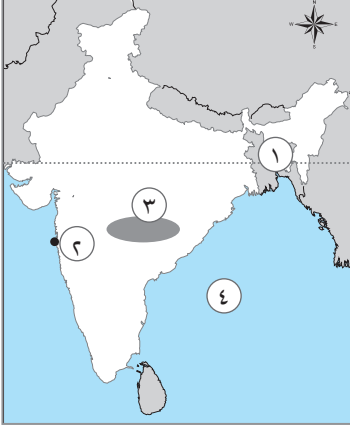
(ب) «لا مكان للإرهاب على أرض مصر - تحية لشعب مصر العظيم وتحية لجيش مصر وشرطة مصر العظيمة على مر

العصور»، في ضوء هذه العبارة، أجب عما يلي:

- ١ حدد أهداف ثورة ٢٣ يوليو ١٩٥٢م.
- ٢ المشير أحمد إسماعيل شخصية مصرية عسكرية وطنية. وضح دوره في نصر أكتوبر ١٩٧٣م.
- ٣ ما رأيك في تقديم بعض الدول العربية الدعم العسكري لمصر وسوريا سنة ١٩٧٣م؟

أولاً: الجغرافيا:

السؤال الأول:



(أ) أمامك خريطة صماء لدولة الهند، اكتب مدلول الأرقام الموقعة عليها:

- ١ دولة
- ٢ العاصمة التجارية
- ٣ هضبة
- ٤ خليج

(ب) بم تفسر...؟

- ١ تركز مصايد الأسماك شمال غرب أوروبا.
- ٢ انكماش حشائش السهل الساحلى بألمانيا.
- ٣ يعتبر النشاط الزراعى من الأنشطة الاقتصادية الأساسية فى العالم.

السؤال الثانى:

(أ) اختر الإجابة الصحيحة مما بين الأقواس:

١ يعتبر محصول من المحاصيل ذات الطبيعة الخاصة.

(القطن - البنجر - الذرة - البن)

٢ تعد أستراليا أولى دول العالم إنتاجاً لخام

(الحديد - النحاس - البوكسيت - المنجنيز)

٣ تعد مدينة العاصمة القديمة لنيجيريا.

(أبوجا - لاجوس - أبيادان - برازيليا)

٤ تعد أولى دول العالم إنتاجاً لقصب السكر

(فرنسا - الولايات المتحدة - مصر - البرازيل)

(ب) «تعد الصناعة الحديثة مقياساً لتطور الشعوب وازدهارها». فى ضوء هذه العبارة أجب:

- ١ ما الدليل على أن هناك علاقة بين الإنتاج الحيوانى والصناعة؟
- ٢ ما المقصود بالمصطلح الجغرافى الآتى: «النشاط التعدينى»؟
- ٣ ما النتائج المترتبة على الوحدة الاقتصادية الأوروبية؟

ثانياً: التاريخ:

السؤال الثالث:

(أ) اكتب كلمة (صواب) أمام العبارة الصحيحة وكلمة (خطأ) أمام العبارة غير الصحيحة مع تصويب الخطأ:

- ١ تنازل الملك فاروق عن العرش لابنه الصغير (محمد توفيق الثاني). ()
- ٢ أصدرت فرنسا وعد بلفور عام ١٩١٧م. ()
- ٣ استعادت مصر شبه جزيرة سيناء فى ٢٥ إبريل ١٩٨٢م ما عدا منطقة طابا. ()
- ٤ أنشأ توفيق مجلس شورى النواب عام ١٨٦٦م. ()

(ب) «تساند مصر دائماً قضايا المنطقة العربية». فى ضوء العبارة أجب عما يأتى:

- ١ أهم إنجازات ثورة ٢٣ يوليو ١٩٥٢ فى المجال العربى والدولى. ()
- ٢ لمصر دور إيجابى فى اتفاقية أوسلو ١٩٩٣م. ()
- ٣ الأهداف التى من أجلها أنشئت جامعة الدول العربية. ()

السؤال الرابع:

(أ) من أكون...؟

- ١ توليت رئاسة الحكومة المصرية عقب حادث ٤ فبراير ١٩٤٢م. ()
- ٢ وضعت خطة الخداع لصرف أنظار إسرائيل عن التجهيزات الهجومية لحرب أكتوبر. ()
- ٣ أنشأت عدة مجالس استشارية لا سلطة لها فى مصر. ()
- ٤ أصدرت أول مجلة نسائية مصرية (الريحانة) عام ١٩٠٧م. ()

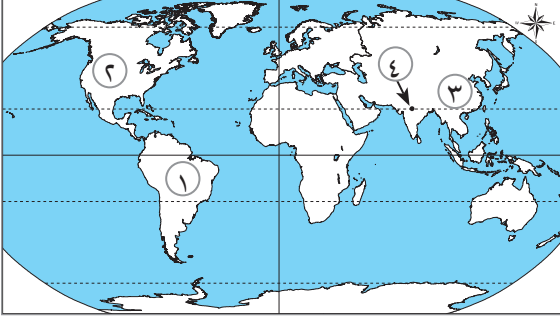
(ب) بم تفسر...؟

- ١ غادر الملك فاروق وأسرته البلاد قبل الموعد الذى حددته الثورة. ()
- ٢ أهمية منظمات المجتمع المدنى. ()
- ٣ يعتبر مجلس الأمن أهم أجهزة الأمم المتحدة. ()

أولاً: الجغرافيا:

السؤال الأول:

(١) أمامك خريطة صماء للعالم اكتب مدلول الأرقام الموقعة عليها:



١ أولى الدول المنتجة لمحصول قصب السكر

.....

٢ دولة يسود بها الرعى التجارى.....

٣ أولى دول العالم إنتاجاً للحديد

٤ عاصمة سياسية.....

(ب) بم تفسر...؟

١ تركز زراعة الشاي فى شرق آسيا.

٢ تنتشر مناطق الصيد على سواحل شمال غرب أوروبا وسواحل أمريكا الشمالية.

٣ أسعار البترول فى زيادة مستمرة.

السؤال الثانى:

(١) اختر الإجابة الصحيحة مما بين الأقواس:

١ الغذاء الرئيسى لمعظم شعوب العالم محصول (الأرز - القمح - الذرة - الشعير)

٢ من الدول النامية المصدرة لخام الحديد

٣ البرازيل أولى دول العالم إنتاجاً لمحصول (موريتانيا - ليبيا - السودان - جيبوتى)

٤ يحد ألمانيا من جهة الشمال دولة

(الداينمارك - بولندا - فرنسا - النمسا)

(ب) «تعد مصادر الطاقة هى القوى المحركة لحياة الإنسان». فى ضوء ذلك وضح الآتى:

١ استخدامات الغاز الطبيعى.

٢ العلاقة بين كل من الألومنيوم والطاقة الكهربائية.

٣ أهم مراكز الصناعة فى إقليم شرق آسيا.

ثانياً: التاريخ:

السؤال الثالث:

(أ) اكتب كلمة (صواب) أمام العبارة الصحيحة وكلمة (خطأ) أمام العبارة غير الصحيحة مع التصويب:

- ١ أذيع البيان الأول لثورة ٢٣ يوليو ١٩٥٢م بصوت محمد نجيب. ()
- ٢ أعطى مؤتمر سان ريمو إبريل ١٩٢٠م لبريطانيا حق الانتداب على فلسطين. ()
- ٣ من أمثلة التعاون بين منظمة اليونسكو ومصر إنقاذ معابد أبو سمبل. ()
- ٤ من المجالس النيابية الاستشارية ولا سلطة لها قبل الاحتلال البريطاني، مجلس المشورة. ()

(ب) ما النتائج المترتبة على...؟

- ١ مؤتمر كامب ديفيد سبتمبر ١٩٧٨م.
- ٢ العدوان الإسرائيلي في ٥ يونيو ١٩٦٧م.
- ٣ رئاسة مصر لمنظمة الاتحاد الإفريقي للمرة الثالثة.

السؤال الرابع:

(أ) اكتب اسم الشخصية التي تتحدث عن نفسها:

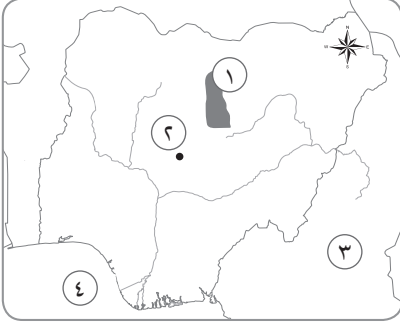
- ١ قمت بتأسيس تنظيم الضباط الأحرار للقيام بثورة ١٩٥٢م.
- ٢ عملت رئيس أركان حرب القوات المسلحة في حرب الاستنزاف.
- ٣ كنت قائد سلاح الطيران في حرب أكتوبر ١٩٧٣م.
- ٤ أنشأت أول مدرسة لتعليم البنات ١٨٧٣م.

(ب) دلل تاريخياً على صحة العبارات الآتية:

- ١ إن للأمم المتحدة دوراً كبيراً في تقسيم فلسطين عام ١٩٤٧م.
- ٢ لجأت مصر للطرق السلمية في استعادة طابا.
- ٣ كان للدول العربية دور كبير في حرب أكتوبر ١٩٧٣م.

أولاً: الجغرافيا:

السؤال الأول:



(أ) أمامك خريطة صماء لدولة نيجيريا، وضح مدلول الأرقام الموجودة عليها:

- ١- هضبة
- ٢- مدينة
- ٣- دولة
- ٤- مسطح مائى

(ب) ما النتائج المترتبة على...؟

- ١- صغر مساحات الحقول الزراعية فى الزراعة الكثيفة.
- ٢- وقوع الصين على المحيط الهادى ووجود الأنهار والبحيرات ومزارع تربية الأسماك بها.
- ٣- التعاون بين منظمة اليونسكو وجمهورية مصر العربية.

السؤال الثانى:

(أ) اختر الإجابة الصحيحة من بين الأقواس:

- ١- أكبر دولة منتجة للبنجر فى قارة إفريقيا هى دولة
- (جنوب إفريقيا - مصر - نيجيريا - السودان)
- ٢- تعتبر
- (الصين - الهند - الولايات المتحدة الأمريكية - روسيا)
- ٣- من المراكز الصناعية الحديثة فى أمريكا الجنوبية
- (بيرو - أورجواى - الأرجنتين - المكسيك)
- ٤- تعد البرازيل أولى دول العالم إنتاجاً لـ
- (الصوف - البن - اللحوم - جميع ما سبق)

(ب) بم تفسر...؟

- ١- تركز زراعة الشاى فى دول شرق آسيا.
- ٢- توسع العالم فى استخدام الغاز الطبيعى كبديل لمصادر الطاقة الأخرى.
- ٣- توجد بالهند ثروة حيوانية ضخمة.

ثانياً: التاريخ:

السؤال الثالث:

(أ) أكمل كل عبارة مما يأتي بما يناسبها مما بين القوسين:

(الاتحاد السوفيتي - بريطانيا - مجالس استشارية - الولايات المتحدة - أحزاب - إدارات محلية)

- ١- بموجب دستور عام ١٩٢٣م تم تشكيل عدة
- ٢- عقدت حكومة ثورة ١٩٥٢م اتفاقية مع لتزويد مصر بالأسلحة.
- ٣- أنشأ محمد علي عدة لاسلطة لها.
- ٤- أقامت جسراً جويًا لتقديم المساعدة العسكرية لإسرائيل.

(ب) بم تفسر...؟

- ١- أهمية منظمة الأمم المتحدة.
- ٢- تأسيس ضباط الجيش تنظيمًا خاصًا بهم عام ١٩٥٢م.
- ٣- يعتبر مجلس الأمن أهم أجهزة الأمم المتحدة.

السؤال الرابع:

(أ) اكتب كلمة (صواب) أمام العبارة الصحيحة، وكلمة (خطأ) أمام العبارة غير الصحيحة:

- ١- أذيع البيان الأول لثورة ١٩٥٢م بصوت محمد نجيب. ()
- ٢- نجحت مصر في استعادة كل أراضيها من إسرائيل في ٢٥ إبريل ١٩٨٢م. ()
- ٣- السلام يؤدي إلى الاستقرار الداخلي للبلاد العربية. ()
- ٤- المنظمات الإقليمية يشترك فيها كل دول العالم. ()

(ب) «أدركت بريطانيا أهمية فلسطين، لذا سعت لتأييد فكرة الوطن اليهودي»، في ضوء العبارة السابقة وضح:

- ١- أهمية فلسطين في قلب كل عربي.
- ٢- إجراءات بريطانيا لتنفيذ وعد بلفور.
- ٣- دور الولايات المتحدة الأمريكية في هزيمة مصر والعرب في حرب فلسطين ١٩٤٨م.